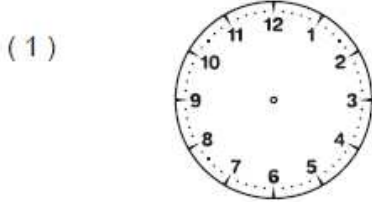
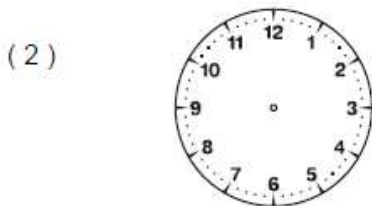


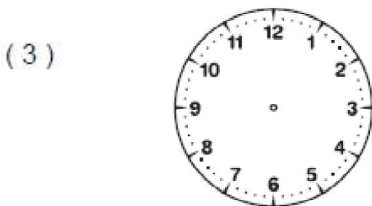
Trace les aiguilles des horloges (l'aiguille des heures en rouge, celle des minutes en bleu).



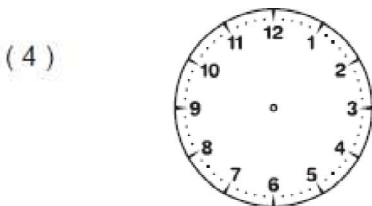
Il est midi



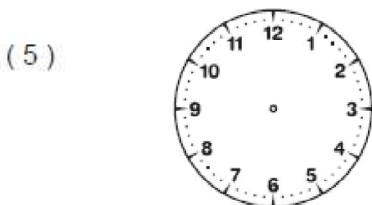
Il est deux heures



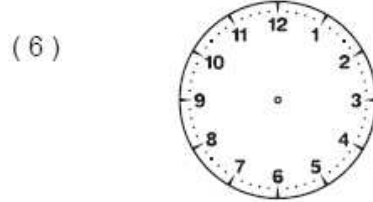
Il est treize heures



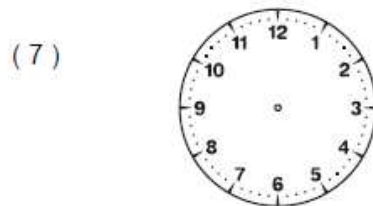
Il est vingt-et-une heures



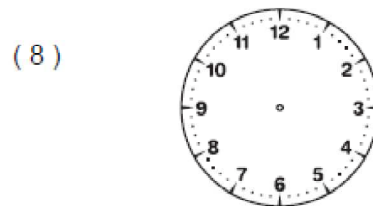
Il est trois heures



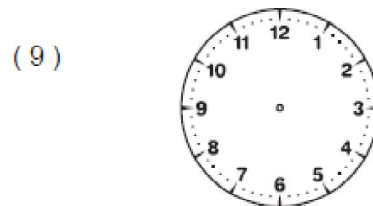
Il est sept heures



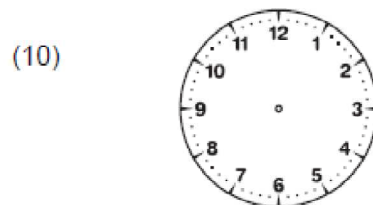
Il est dix-huit heures



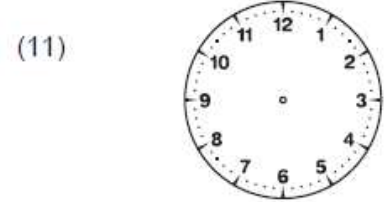
Il est vingt-trois heures



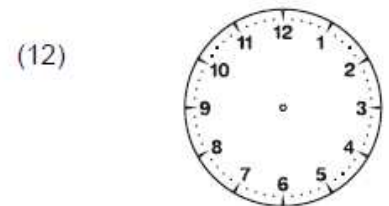
Il est quatre heures



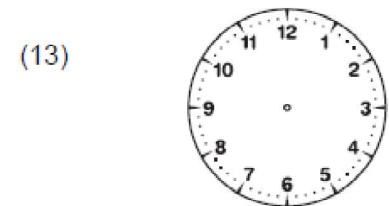
Il est dix-sept heures



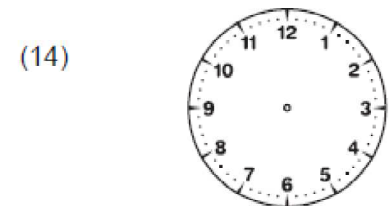
Il est quinze heures



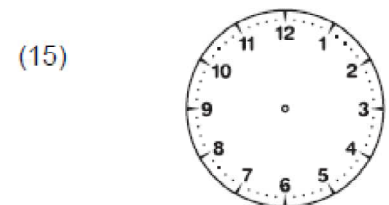
Il est une heure




Il est dix heures



Il est dix-neuf heures



Il est cinq heures



Tu as fait moins de 3 erreurs sur les horloges.

Ton travail est soigné.

Écris l'heure qu'il est, comme dans l'exemple. Attention : c'est le matin !

(1)

Il est midi

(2)



Il est _____

(3)



Il est _____

(4)



Il est _____

(5)



Il est _____

(6)




Il est _____

(7)



Il est _____

(8)



Il est _____

(9)




Il est _____

(10)



Il est _____

(11)




Il est _____

(12)




Il est _____

(13)



Il est _____

(14)




Il est _____

(15)



Il est _____



Tu as fait moins de 3 erreurs de lecture de l'heure.

Ton écriture est soignée.

Tu as fait moins de 3 erreurs d'orthographe.